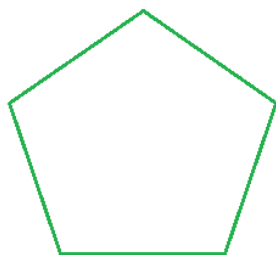
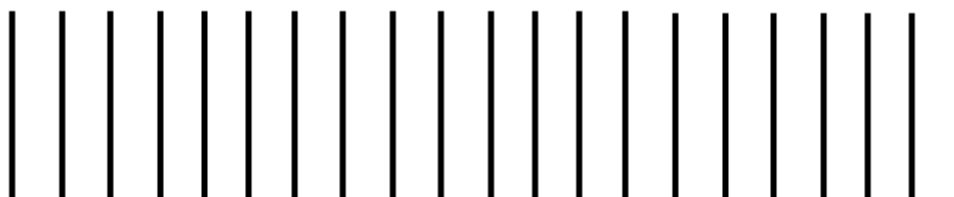


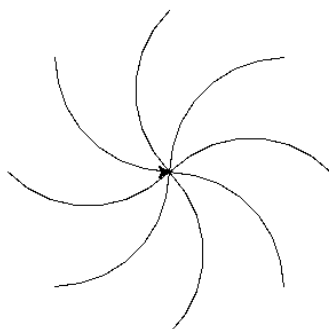
1. Wykonaj program z procedurą, który będzie rysował zielonym kolorem pięciobok foremny.



2. Wykonaj program z procedurą, który będzie rysowała poniższy rysunek. Płotek ma się składać z 25 kresek.



3. Wykonaj procedurę z parametrami (długość, ilość) która będzie rysowała kształt jak poniżej. Parametry powinny odpowiadać za długość nóżki i ilość nóżek.



4. Wykonaj program, który wykona poniższy rysunek.

