


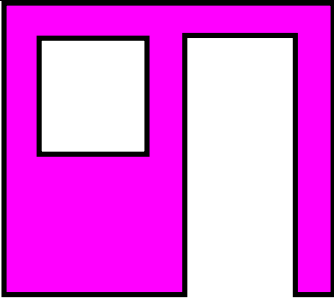


ZAD.	TREŚĆ	RYSUNEK
1	<p>Za pomocą narzędzia <b>SUMA</b> narysuj budynek.</p> <p><u>Podpowiedź</u> - budynek skład się z kilku podłużnych prostokątów i jednego trójkąta.</p>	
2	<p>Za pomocą narzędzia <b>RÓŻNICA</b> narysuj księżyc.</p> <p><u>Podpowiedź</u> - księżyc zrobiony był za pomocą dwóch okręgów.</p>	
3	<p>Za pomocą narzędzia <b>CZĘŚĆ WSPÓLNA</b> narysuj gwiazdkę z zaokrąglonymi narożnikami.</p> <p><u>Podpowiedź</u> - gwiazdkę zrobiono za pomocą okręgu i gwiazdy.</p>	
4	<p>Za pomocą narzędzia <b>WYKLUCZENIE</b> narysuj domek z przezroczystym oknem i drzwiami.</p> <p><u>Podpowiedź</u> – domek wykonano z trzech prostokątów.</p>	
5	<p>Za pomocą narzędzia <b>PODZIAŁ</b> narysuj pęknięte jajko.</p> <p><u>Podpowiedź</u> – narysuj owal, następnie za pomocą ołówka narysuj kształt zamknięty w kształcie pęknięcia na jajku.</p>	